

GENERAL CERTIFICATE OF EDUCATION (GCE) BOARD

General Certificate of Education Examination

Special Bilingual Education French 2

0546

JUNE 2021

ORDINARY LEVEL

| | |
|------------------|------------------------------------|
| Subject Title | Special Bilingual Education French |
| Paper No. | 2 |
| Subject Code No. | 0546 |

Durée: Deux heures quinze minutes

Répondez uniquement en français aux questions des trois parties obligatoires de cette épreuve :(Intensive French/80pts, Education à la Citoyenneté et à la Morale/40pts, Education Physique et Sportive/40pts).

Répondez aux questions de chaque partie sur une nouvelle page du livret.

Utilisez un stylo bleu.

Veillez à une bonne présentation de vos réponses.

<http://www.gcerevision.com> Tournez la page

June 2021/0546/2/A/Q

© 2021 GCEB

QUESTION 1: Français Intensif: traduction**Traduisez le texte ci-dessous en français :**

In Africa, malaria kills mostly children and pregnant women. Many Africans are still ignorant about how this disease is transmitted so a lot of education should be done. Planting food crops like corn, cassava and yams close to our houses attracts mosquitoes. Another cause of malaria is that the majority of Africans have a hygiene problem, as mosquitoes are found in dirty environments including standing water, gutters and garbage.

This disease can however be prevented if appropriate measures are taken. Firstly, we should clear the bushes around our houses and use insecticides especially those which are environment friendly. Secondly, we should make sure all our windows have mosquito nets. Closing doors and windows at about 5p.m. every evening will also go a long way to reduce the number of mosquitoes that enter the house. Lastly, individuals and communities should protect themselves by sleeping under treated mosquito nets.

At the level of sensitization and distribution of mosquito nets in Cameroon, government has done some work but a lot still has to be done to reach out to those who live in rural areas. It is necessary for government to ensure that the mosquito nets distributed are used effectively for preventing malaria rather than for fishing. Our fervent wish is to kick malaria out of Africa.

QUESTION 2 : Education à la Citoyenneté et à la Morale

Le candidat traitera au choix l'un des deux sujets. Il veillera à la bonne utilisation de la langue et, pour la composition (sujet a), il rédigera une introduction, un développement et une conclusion.

Sujet a) L'évolution de la constitution camerounaise de 1960 à nos jours.

Consignes : Après avoir défini le terme constitution, le candidat donnera trois grands traits de la constitution de 1960, ensuite, il relèvera les caractéristiques et innovations des constitutions de 1961, 1972 et 1996.

Sujet b)

(1) Définissez les mots et expressions suivants :

a. Croissance démographique

2 pts

b. Nappe phréatique

2 pts

(2) Donnez trois raisons pour lesquelles le troc n'est plus pratique.

3 pts

(3) Citez quatre emblèmes nationaux.

2 pts

(4) Recopiez et complétez la phrase ci-dessous à l'aide des mots sélectionnés dans la liste suivante :

unitaire, étoile, verticales

3pts

Le drapeau du Cameroun est tricolore, constitué des bandes _____, avec au milieu de la bande rouge, une _____, marquant le caractère _____ de la nation.

(5) Recopiez et faites correspondre par des flèches, les éléments de la colonne A à ceux de la colonne B.

4 pts

Colonne A

Permis de bâtir

Permis de chasse

Permis de conduire

Permis de séjour

Colonne B

Etranger

Automobile


Maison

Gibier

- (6) Classez les éléments suivants selon qu'ils relèvent de l'Exécutif ou du Législatif : conseil de cabinet, proposition de loi, ordonnance, délégation régionale, groupe parlementaire, questeur, décret. **4 pts**
- (7) Les activités de tourisme à l'intérieur du pays ne sont pas assez encouragées, ce qui pousse les personnes plus ou moins riches à rechercher les activités de loisir hors du pays.



Document 1 : lacs jumeaux du Mt Manengouba



Document 2 : girafes au parc de Waza

Document 3 :

Le tourisme au Cameroun offre plusieurs attractions telles que les réserves et parcs naturels, les musées et l'habitat traditionnel... Toutefois, cette activité souffre de nombreuses insuffisances infrastructurelles et administratives.

Le tourisme étant devenu une activité économique majeure, le gouvernement camerounais s'emploie à le développer dans le cadre de la lutte contre la pauvreté. Nous avons ainsi les écoles de formation aux métiers de tourisme, le développement des sites et des voies de communication. *Texte inédit*

- Identifiez le problème posé dans la situation présentée. **4 pts**
- Donnez quatre raisons pour lesquelles le tourisme à l'intérieur du pays est peu pratiqué. $2 \times 4 = 8$ pts
- Proposez quatre solutions qui peuvent permettre de promouvoir le tourisme. $2 \times 4 = 8$ pts

QUESTION 3 : Education Physique et Sportive

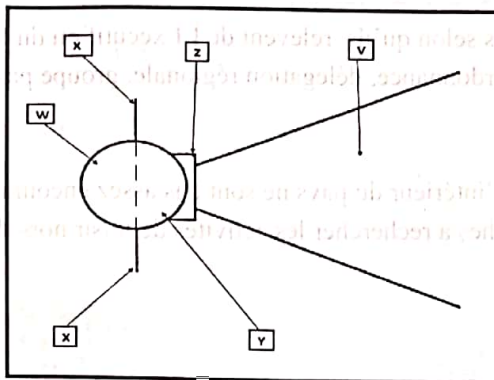
Le candidat répondra à toutes les questions en construisant des phrases complètes.

(Chaque question vaut deux (02) points dont un(01) pour la langue et un(01) pour la bonne réponse)

- Nommez deux sprints courts durant lesquelles les athlètes franchissent les haies sur une piste d'athlétisme réglementaire de plein air.
- Au saut en hauteur, que représentent les taquets ?
- A quoi sert le pistolet lors des épreuves de courses en athlétisme ?
- Comment appelle-t-on l'endroit où l'athlète prend l'élan lors des compétitions de saut en hauteur ?
- Le 100m et le 200m sont des courses de vitesse. Seulement, pendant qu'au 100m, les athlètes prennent le départ sur la même ligne, ce n'est pas le cas au 200m. Dites-nous pourquoi.
- A quoi sert le fanion jaune dans les compétitions de saut en hauteur ?

Tournez la page

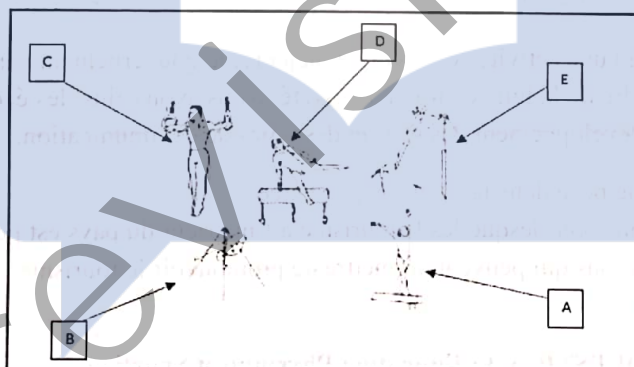
Observez l'image ci-dessous.



- 7- A quelle discipline sportive correspondent les installations contenues dans cette image?
- 8- Nommez les éléments X.
- 9- Nommez l'élément V.
- 10- Quelle(s) partie(s) de l'image ci-dessus constitue l'aire de lancer ?
- 11- En compétition officielle d'athlétisme, quel est le temps imparti pour réaliser un essai au lancer du poids?
- 12- En compétition officielle senior hommes au lancer du poids, quelle est la masse de l'engin propulsée ?

Pour vous amuser et vous divertir pendant les vacances, vous invitez votre cousin visiter un gymnase. Pendant cette visite, il est émerveillé par les installations qu'il y a découvertes et qui sont contenues dans le document ci-dessous. Répondez aux questions suivantes pour l'aider à mieux comprendre la pratique de la discipline concernée.

Document



- 13-A Quelle discipline sportive renvoient les installations du document ci-dessus ?
- 14- Quels sont les deux sous-groupes de la discipline concernée?
- 15- Sur quel agrès effectue-t-on les exercices de gymnastique lors des cours d'EPS dans les établissements d'enseignement secondaire au Cameroun ?
- 16- Nommez l'agrès utilisé par l'athlète désigné par la lettre C.
- 17- Nommez l'agrès utilisé par l'athlète désigné par la lettre D.
- 18- Nommez l'agrès utilisé par l'athlète désigné par la lettre B.
- 19- Identifiez et nommez les agrès féminins sur le document ?
- 20- Lors de la réalisation d'une roulade avant simple, après la pose des mains, quelle est la première partie du corps à toucher le sol?